
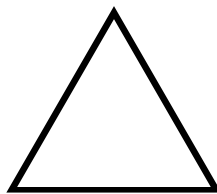
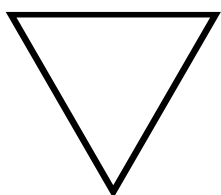


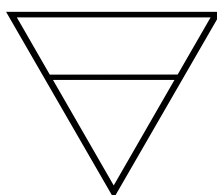
Elementerne

Hvilket symbol repræsenterer hvilket element?










Hvilket element er placeret ved hver af de 5 spidser af pentagrammet?



Elementerne

Skriv ordene under det element, de beskriver

Arbejde – Balance – Begær – Bevægelse mod manifestationen – Det materielle – Efterår – Energi
Fokus – Fornyelse – Forår – Følelser – Højere mening – Intellect – Intuition – Klarhed
Kommunikation – Manifestation – Middag – Midten – Mod – Nat – Nord – Sammenhæng
Sandhed – Sindet – Skæbne – Solnedgang – Solopgang – Sommer – Stabilitet Styrke – Syd
Teoretisk viden – Transformation – Tryghed – Tålmodighed – Underbevidstheden – Vest – Vilje
Vinter - Vækst – Øst

Vand	Ild	Jord	Luft	Ånd